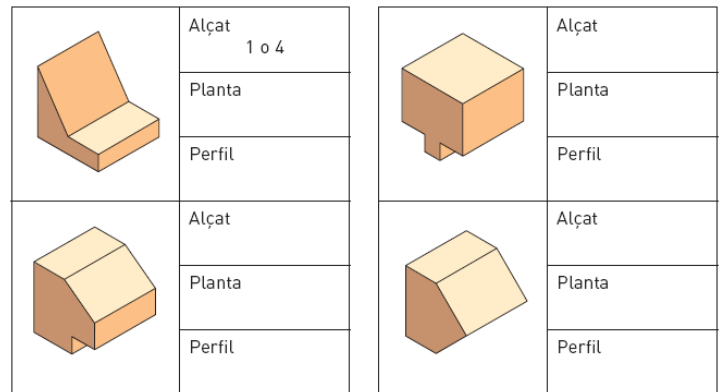
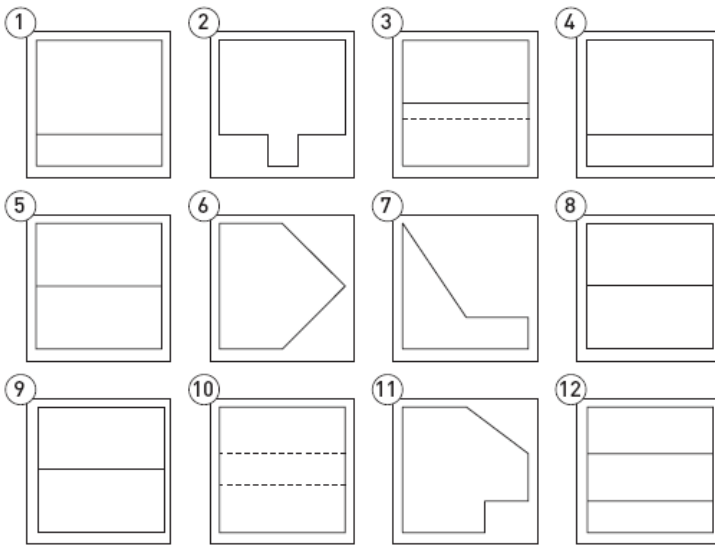


Tecnologies de 3r ESO

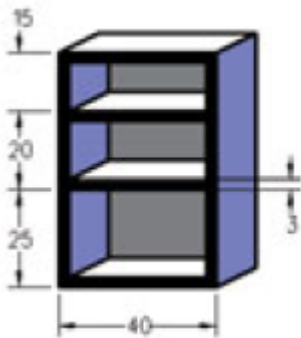
1a Avaluació

Exercicis de la Unitat 2: "Tècniques d'expressió i comunicació" (Unitat 2 llibre)

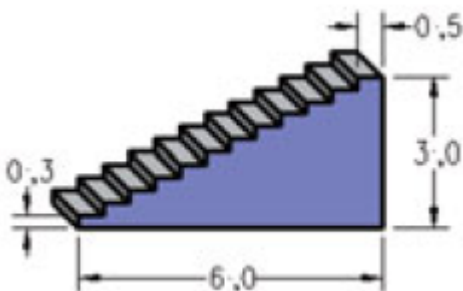
1. Relaciona les vistes amb les peces en perspectiva.




2. Dibuixa l'alçat a escala 1:10. (Les mides estan en centímetres)




3. Dibuixa l'alçat a escala 1:100. (Les mides estan en metres)




4. Si la longitud del clau és de 40 mm, indica'n l'escala.



5. Calcula la longitud del llapis si s'ha dibuixat a escala 1:3.



6. a) Calcula l'amplada de la porta si s'ha dibuixat a escala 1/50.
 b) Si l'altura de la porta és de 2 metres, indica l'escala del dibuix.



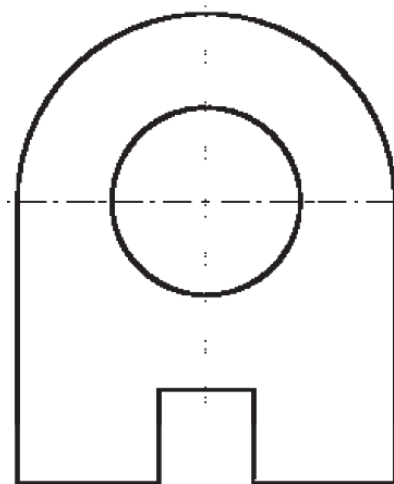
7. a) Calcula la distància de València a Alacant si el plànol té una escala de 1/5000000.
 b) Si la distància de València a Múrcia és de 230 km, digues l'escala.



b)



8. Acota la següent vista.



9. Dibuixa les vistes de la següent perspectiva i acota'n l'alçat.

